

1. RODEA EL NÚMERO MAS PEQUEÑO.

11	13
----	----

18	17
----	----

12	15
----	----

14	19
----	----

14	12
----	----

12	17
----	----

10	11
----	----

13	20
----	----

13	14
----	----

15	16
----	----

2. RODEA EL NÚMERO MÁS PEQUEÑO.

13	16
----	----

15	14
----	----

19	17
----	----

13	19
----	----

16	18
----	----

11	14
----	----

13	16
----	----

17	18
----	----

20	16
----	----

12	15
----	----

3. ESCRIBE EL NÚMERO QUE VA ANTES.

	12
--	----

	18
--	----

	17
--	----

	14
--	----

	15
--	----

	19
--	----

	13
--	----

	20
--	----

	11
--	----

	12
--	----

4. ESCRIBE EL NÚMERO QUE VA DESPUÉS.

11	
----	--

17	
----	--

16	
----	--

14	
----	--

19	
----	--

18	
----	--

12	
----	--

13	
----	--

10	
----	--

15	
----	--

5. ESCRIBE EL NÚMERO QUE VA EN MEDIO.

10		12
----	--	----

14		16
----	--	----

12		14
----	--	----

11		13
----	--	----

15		17
----	--	----

13		15
----	--	----

17		19
----	--	----

18		20
----	--	----

16		18
----	--	----

12		14
----	--	----

6. ESCRIBE EL SIGNO QUE CORRESPONDA.

> < =

12		15
----	--	----

17		17
----	--	----

13		19
----	--	----

18		11
----	--	----

14		12
----	--	----

7. RELACIONA.

10
11
12
13
14
15
16
17
18
19
20

DOCE
VEINTE
DIECISIETE
DIECISEIS
DIECIOCHO
DIECINUEVE
TRECE
ONCE
CATORCE
DIEZ
QUINCE

8. ESCRIBE.

10
11
12
13
14
15
16
17
18
19
20

.....

.....

.....

.....

.....

.....

.....

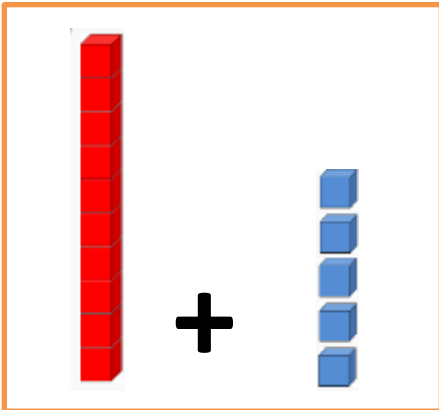
.....

.....


.....

.....

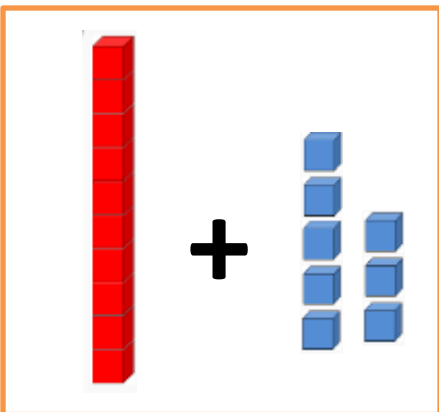
9. SUMA




D	U



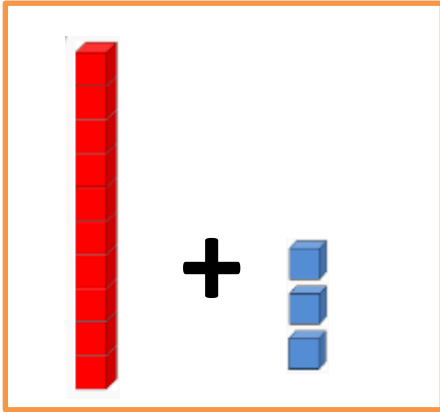
D	U



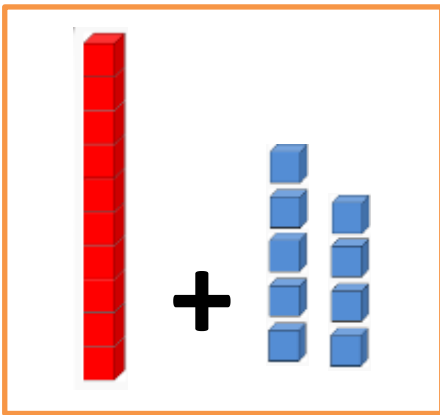
D	U



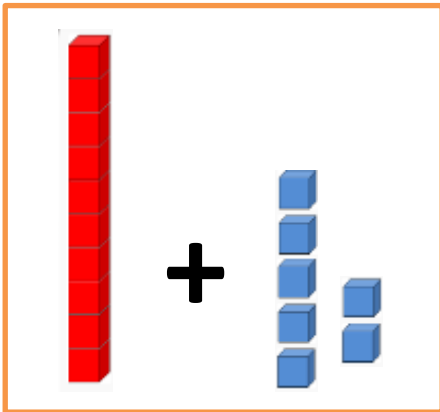
D	U



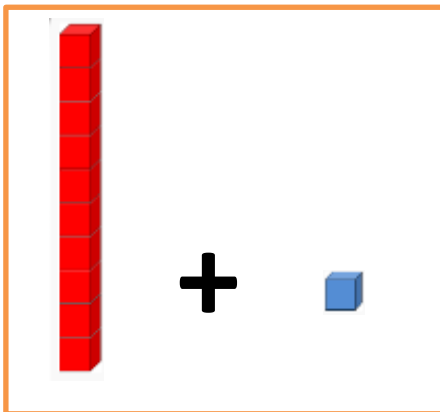
D	U



D	U



D	U



D	U