

1. RODEA EL NÚMERO MÁS PEQUEÑO.

21	22
----	----

27	23
----	----

23	25
----	----

26	28
----	----

24	20
----	----

25	29
----	----

27	26
----	----

22	21
----	----

25	28
----	----

30	25
----	----

2. RODEA EL NÚMERO MÁS GRANDE.

30	25
----	----

21	22
----	----

23	29
----	----

27	26
----	----

26	28
----	----

23	25
----	----

24	20
----	----

27	28
----	----

29	27
----	----

26	30
----	----

**3. ESCRIBE EL NÚMERO DE ANTES.**

	25
--	----

	21
--	----

	23
--	----

	29
--	----

	28
--	----

	24
--	----

	22
--	----

	26
--	----

	30
--	----

	20
--	----

**4. ESCRIBE EL NÚMERO QUE VA DESPUÉS.**

21	
----	--

28	
----	--

23	
----	--

22	
----	--

25	
----	--

24	
----	--

27	
----	--

26	
----	--

29	
----	--

20	
----	--

5. ESCRIBE EL NÚMERO QUE VA EN MEDIO.

21		23
----	--	----

24		26
----	--	----

20		22
----	--	----

28		30
----	--	----

23		25
----	--	----

22		24
----	--	----

26		28
----	--	----

27		29
----	--	----

25		27
----	--	----

28		30
----	--	----

6. PON EL SIGNO CORRESPONDIENTE.

> < =

23		23
----	--	----

21		22
----	--	----

30		20
----	--	----

24		25
----	--	----

29		28
----	--	----

7. RELACIONA.

20
21
22
23
24
25
26
27
28
29
30

VEINTITRES
VEINTIOCHO
VEINTICINCO
VEINTE
TREINTA
VEINTIUNO
VEINTISIETE
VEINTIDOS
VEINTINUEVE
VEINTICUATRO
VEINTISEIS

8. ESCRIBE

20

.....

21

.....

22

.....

23

.....

24

.....

25

.....

26

.....

27

.....

28

.....

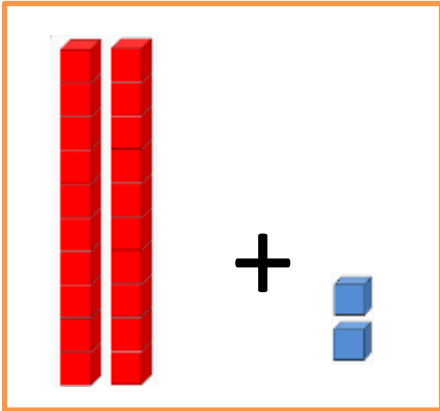
29

.....

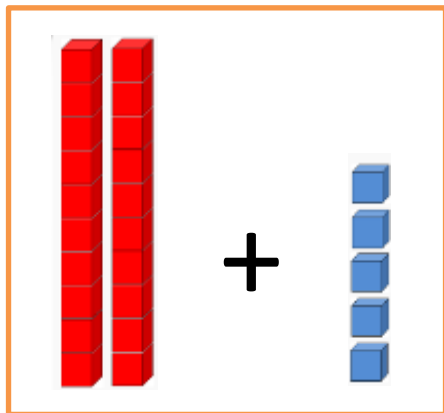
30

.....

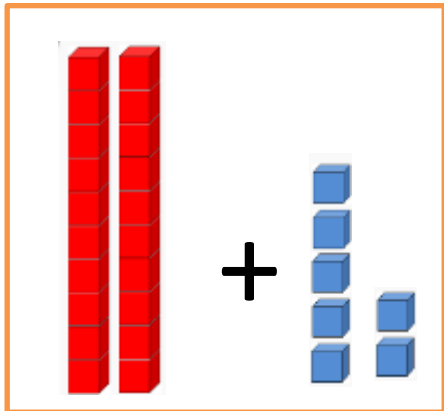
9. SUMA.



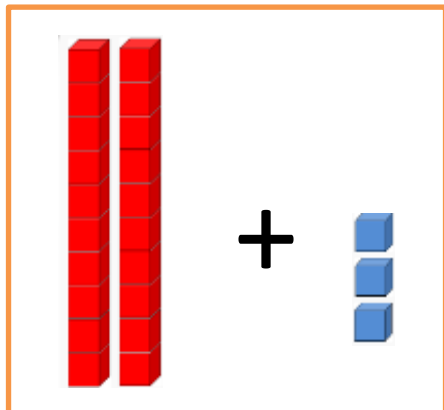
D	U



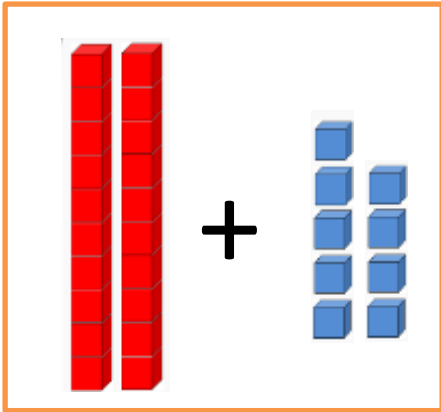
D	U



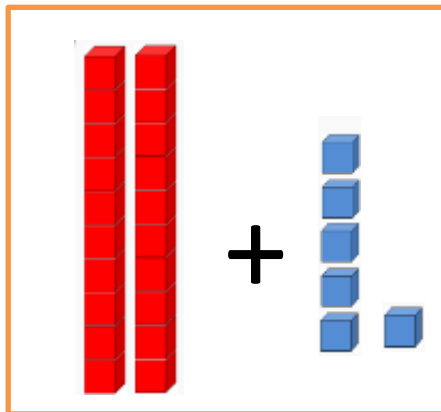
D	U



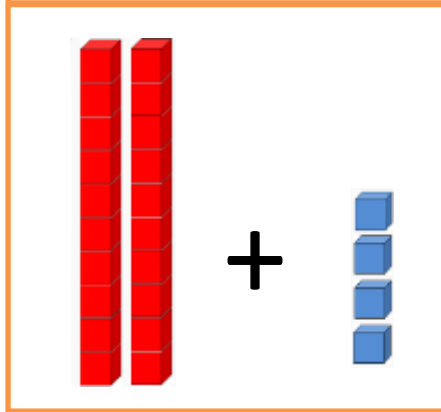
D	U



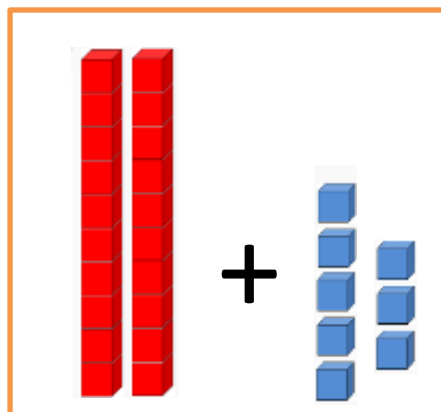
D	U



D	U



D	U



D	U