

QUINA ÉS UNA PART DE LA CARA?

A) UNA CAMA.



B) UN BRAÇ.



C) DOS ULLS.



QUINA ÉS UNA PART DE LA CARA?

A) UNA MÀ.



B) DUES ORELLES.



C) UNA COSTELLA.



QUINA ÉS UNA PART DE LA CARA?

A) UNA COLUMNA VERTEBRAL.

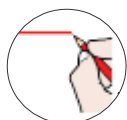


B) UN NAS.



C) DOS BRAÇOS.





QUINA ÉS UNA PART DE LA CARA?

A) UN PEU.



B) UN DIT.



C) UNA BOCA.



A QUINA PART DEL COS TINC LA CARA?

A) EN EL CAP.



B) EN L'EQUELET.



C) EL ELS BRAÇOS.



QUINA FORMA PART DEL COS PER PODER ESTAR DE PEU?

A) EL TRONC.

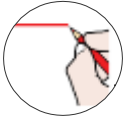


B) EL DIT.



C) EL CANELL.





QUINA ÉS UNA EXTREMITAT QUE FORMA PART DEL COS?

A) L'ULL.



B) ELS BRAÇOS I LES CAMES.



C) L'ORELLA.



QUINA FORMA PART DE L'ESQUELET?

A) EL CRANI.



B) LA BOCA.



C) EL CAP.



QUINA FORMA PART DE L'ESQUELET?

A) L'ORELLA.

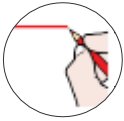


B) EL GENOLL.



C) LA COLUMNA VERTEBRAL.





QUINA FORMA PART DE L'ESQUELET?

A) L'HÚMER.



B) EL NAS.



C) EL PEU.



QUINA FORMA PART DE L'ESQUELET?

A) EL COLL.



B) LA BOCA.



C) LES COSTELLES.



QUINA FORMA PART DE L'ESQUELET?

A) EL FÈMUR.

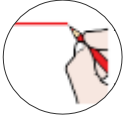


B) EL CAP.



C) DOS PEUS.





QUINA FORMA PART DE LES ARTICULACIONS?

A) EL COLL.



B) LA COLUMNA VERTEBRAL.



C) EL NAS.



QUINA FORMA PART DE LES ARTICULACIONS?

A) UNA ORELLA.



B) L'ESPATLLA.



C) EL RADI.



QUINA FORMA PART DE LES ARTICULACIONS?

A) LES COSTELLES.

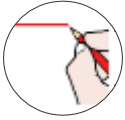


B) DOS ULL.



C) EL COLZE.





QUINA FORMA PART DE LES ARTICULACIONS?

A) UN DIT.



B) EL CANELL.



C) EL CAP.



QUINA FORMA PART DE LES ARTICULACIONS?

A) EL PEU.



B) LES COSTELLES.



C) EL MALUC.



QUINA FORMA PART DE LES ARTICULACIONS?

A) EL GENOLL.

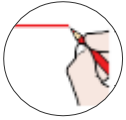


B) LA BOCA.



C) LA TÍBIA.





QUINA FORMA PART DE LES ARTICULACIONS?

A) EL DIT.



B) EL CAP.



C) EL TURMELL.



QUINA FORMA PART DE LES MUSCULTAURA?

A) CRANI.



B) EL BÍCEPS.



C) EL TURMELL.



QUINA FORMA PART DE LES MUSCULATURA?

A) EL FRONTAL

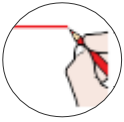


B) EL MALUC.



C) EL CANELL





QUINA FORMA PART DE LES MUSCULATURA?

A) EL BRAÇ.



B) LA CAMA.



C) EL PECTORAL.



QUINA FORMA PART DE LES MUSCULATURA?

A) L'ABDOMEN.



B) EL NAS.



C) EL COLL.



QUINA FORMA PART DE LES MUSCULATURA?

A) EL TRAPEZI.

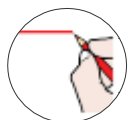


B) LES COSTELLES.



C) EL MALUC.





QUINA FORMA PART DE LES MUSCULATURA?

A) EL GLUTI.

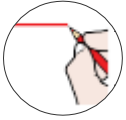


B) L'ORELLA.



C) L'ESPATLLA.





QUINA ÉS UNA PART DE LA CARA?

A) DOS ULLS.



B) UN BRAÇ.



C) UNA CAMA.



QUINA ÉS UNA PART DE LA CARA?

A) UNA MÀ.



B) UNA COSTELLA.



C) DUES ORELLES.



QUINA ÉS UNA PART DE LA CARA?

A) UN NAS.

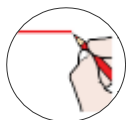


B) UNA COLUMNA VERTEBRAL.



C) DOS BRAÇOS.





QUINA ÉS UNA PART DE LA CARA?

A) *UN PEU.*



B) *UNA BOCA.*



C) *UN DIT.*



A QUINA PART DEL COS TINC LA CARA?

A) *EN EL CAP.*



B) *ELS BRAÇOS.*



C) *EN L'ESQUELET.*



QUINA FORMA PART DEL COS PER PODER ESTAR DE PEU?

A) *EL CANELL.*

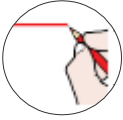


B) *EL DIT.*



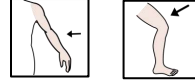
C) *EL TRONC.*





QUINA ÉS UNA EXTREMITAT QUE FORMA PART DEL COS?

A) *ELS BRAÇOS I LES CAMES.*



B) *L'ULL.*



C) *L'ORELLA.*



QUINA FORMA PART DE L'ESQUELET?

A) *EL CAP.*



B) *LA BOCA.*



C) *EL CRAN.*



QUINA FORMA PART DE L'ESQUELET?

A) *L'ORELLA.*

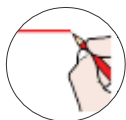


B) *LA COLUMNA VERTEBRAL.*



C) *EL GENOLL.*





QUINA FORMA PART DE L'ESQUELET?

A) EL NAS.



B) L'HÚMER.



C) EL PEU.



QUINA FORMA PART DE L'ESQUELET?

A) LES COSTELLES.



B) EL COLL.



C) LA BOCA.



QUINA FORMA PART DE L'ESQUELET?

A) EL CAP.

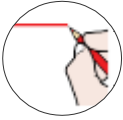


B) EL FÈMUR.



C) DOS PEUS.





QUINA FORMA PART DE LES ARTICULACIONS?

A) EL NAS.



B) LA COLUMNA VERTEBRAL.



C) EL COLL.



QUINA FORMA PART DE LES ARTICULACIONS?

A) L'ESPATLLA.



B) UNA ORELLA.



C) EL RADI.



QUINA FORMA PART DE LES ARTICULACIONS?

A) LES COSTELLES.

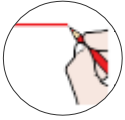


B) EL COLZE.



C) L'ULL.





QUINA FORMA PART DE LES ARTICULACIONS?

A) EL CANELL.



B) ELS DITS.



C) EL CAP.



QUINA FORMA PART DE LES ARTICULACIONS?

A) EL PEU.



B) EL MALUC.



C) LES COSTELLES.



QUINA FORMA PART DE LES ARTICULACIONS?

A) LA BOCA.

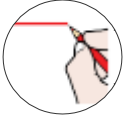


B) EL GENOLL.



C) LA TÍBIA.





QUINA FORMA PART DE LES ARTICULACIONS?

A) EL DIT.



B) EL TURMELL.



C) EL CAP.



QUINA FORMA PART DE LES MUSCULATURA?

A) EL BÍCEPS.



B) EL CRANI.



C) EL TURMELL.



QUINA FORMA PART DE LES MUSCULATURA?

A) EL GENOLL.

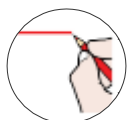


B) EL FRONTAL.



C) EL CANELL.





QUINA FORMA PART DE LES MUSCULATURA?

A) EL BRAÇ.



B) EL PECTORAL.



C) EL GENOLL.



QUINA FORMA PART DE LES MUSCULATURA?

A) EL COLL.



B) EL NAS.



C) L'ABDOMEN.



QUINA FORMA PART DE LES MUSCULATURA?

A) EL MALUC.

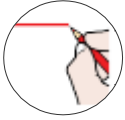


B) LES COSTELLES.



C) E TRAPEZI.





QUINA FORMA PART DE LES MUSCULATURA?

A) L'ESPATLLA.



B) EL GLUTI.



C) L'ORELLA



