



1. RODEA EL NÚMERO MÁS PEQUEÑO.

11	13
----	----

18	17
----	----

12	15
----	----

14	19
----	----

14	12
----	----

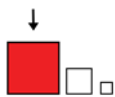
12	17
----	----

10	11
----	----

13	20
----	----

13	14
----	----

15	16
----	----



2. RODEA EL NÚMERO MÁS GRANDE.

13	16
----	----

15	14
----	----

19	17
----	----

13	19
----	----

16	18
----	----

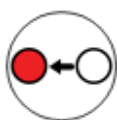
11	14
----	----

13	16
----	----

17	18
----	----

20	16
----	----

12	15
----	----



3. ESCRIBE EL NÚMERO QUE VA ANTES.

	12
--	----

	18
--	----

	17
--	----

	14
--	----

	15
--	----

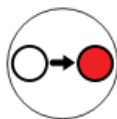
	19
--	----

	13
--	----

	20
--	----

	11
--	----

	12
--	----



4. ESCRIBE EL NÚMERO QUE VA DESPÚES.

11	
----	--

17	
----	--

16	
----	--

14	
----	--

19	
----	--

18	
----	--

12	
----	--

13	
----	--

10	
----	--

15	
----	--



5. ESCRIU EL NÚMERO QUE FALTA.

10		12
----	--	----

14		16
----	--	----

12		14
----	--	----

11		13
----	--	----

15		17
----	--	----

13		15
----	--	----

17		19
----	--	----

18		20
----	--	----

16		18
----	--	----

12		14
----	--	----



12		15
----	--	----

17		17
----	--	----

13		19
----	--	----

18		11
----	--	----

14		12
----	--	----



10

11

12

13

14

15

16

17

18

19

20

DOCE

VEINTE

DIECISEIS

DIECISIETE

DIECIOHO

DIECINUEVE

TRECE

ONCE

CATORCE

DIEZ

QUINCE



10
11
12
13
14
15
16
17
18
19
20

.....

.....

.....

.....

.....

.....

.....

.....

.....

.....

.....