


**1. RODEA EL NÚMERO MÁS PEQUEÑO.**

21	22
----	----

27	23
----	----

23	25
----	----

26	28
----	----

24	20
----	----

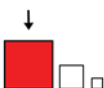
25	29
----	----

27	26
----	----

22	21
----	----

25	28
----	----

30	25
----	----


**2. RODEO EL NÚMERO MÁS GRANDE.**

30	25
----	----

21	22
----	----

23	29
----	----

27	26
----	----

26	28
----	----

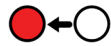
23	25
----	----

24	20
----	----

27	28
----	----

29	27
----	----

26	30
----	----



3. ESCRIBE EL NÚMERO DE ANTES.

	25
--	----

	21
--	----

	23
--	----

	29
--	----

	28
--	----

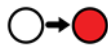
	24
--	----

	22
--	----

	26
--	----

	30
--	----

	20
--	----



4. ESCRIBE EL NÚMERO QUE VA DESPUÉS.

21	
----	--

28	
----	--

23	
----	--

22	
----	--

25	
----	--

24	
----	--

27	
----	--

26	
----	--

29	
----	--

20	
----	--



## 5. ESCRIBE EL NÚMERO QUE FALTA.

21		23
----	--	----

24		26
----	--	----

20		22
----	--	----

28		30
----	--	----

23		25
----	--	----

22		24
----	--	----

26		28
----	--	----

27		29
----	--	----

25		27
----	--	----

28		30
----	--	----




23		23
----	--	----

21		22
----	--	----

30		30
----	--	----

24		25
----	--	----

29		28
----	--	----



20

21

22

23

24

25

26

27

28

29

30

VENTITRES

VENTIOCHO

VENTICINCO

VEINTE

TRENTA

VENTIUNO

VENTISIETE

VENTIDOS

VENTINUEVE

VENTICUATRO

VENTISEIS



20
21
22
23
24
25
26
27
28
29
30

.....

.....

.....

.....

.....

.....

.....

.....

.....

.....

.....