

RODEA EL NÚMERO MÁS PEQUEÑO.

31	32
----	----

37	33
----	----

33	35
----	----

36	38
----	----

34	30
----	----

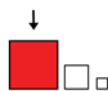
35	39
----	----

37	36
----	----

32	31
----	----

35	38
----	----

30	35
----	----



RODEA EL NÚMERO MÁS GRANDE

30	35
----	----

31	32
----	----

35	39
----	----

37	36
----	----

36	38
----	----

33	35
----	----

34	30
----	----

37	33
----	----

39	37
----	----

36	40
----	----



ESCRIBE EL NÚMERO DE ANTES.

	35
--	----

	31
--	----

	33
--	----

	32
--	----

	38
--	----

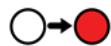
	34
--	----

	39
--	----

	36
--	----

	40
--	----

	30
--	----



ESCRIBE EL NÚMERO QUE VA DESPUÉS.

31	
----	--

38	
----	--

33	
----	--

32	
----	--

35	
----	--

34	
----	--

37	
----	--

36	
----	--

39	
----	--

30	
----	--



ESCRIBE EL NÚMERO QUE FALTA.

31		33
----	--	----

34		36
----	--	----

30		32
----	--	----

38		40
----	--	----

33		35
----	--	----

32		34
----	--	----

36		38
----	--	----

37		39
----	--	----

35		37
----	--	----

29		31
----	--	----



33		33
----	--	----

31		32
----	--	----

30		36
----	--	----

35		34
----	--	----

39		38
----	--	----



30

31

32

33

34

35

36

37

38

39

40

TREINTA Y DOS

CUARENTA

TREINTA Y SEIS

TREINTA Y OCHO

TREINTA Y UNO

TREINTA Y NUEVE

TREINTA

TREINTA Y TRES

TREINTA Y CUATRO

TREINTA Y SIETE

TREINTA Y CINCO



30
31
32
33
34
35
36
37
38
39
40

.....

.....

.....

.....

.....

.....


.....

.....

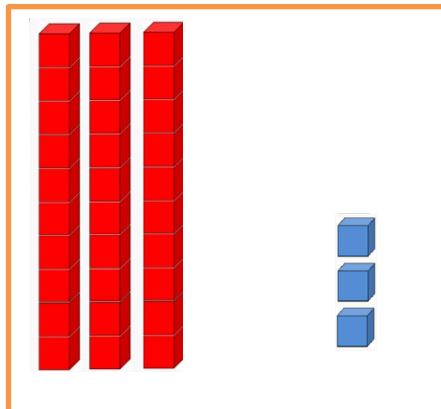
.....

.....

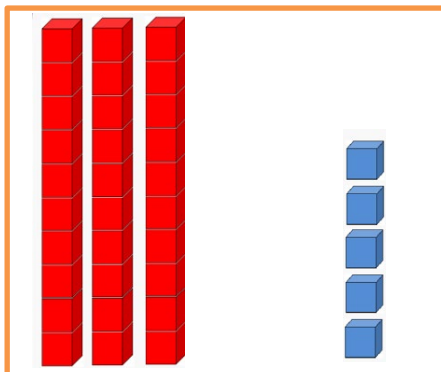
.....



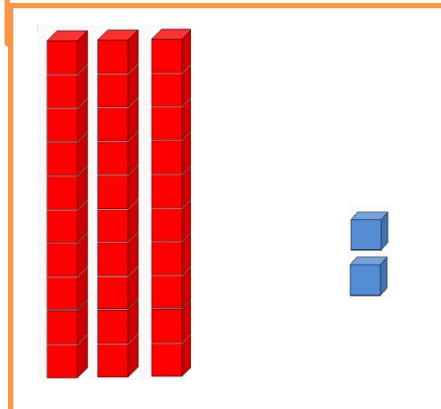
D	U




D	U




D	U



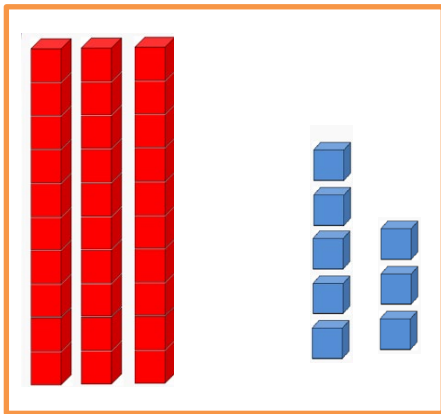
D	U



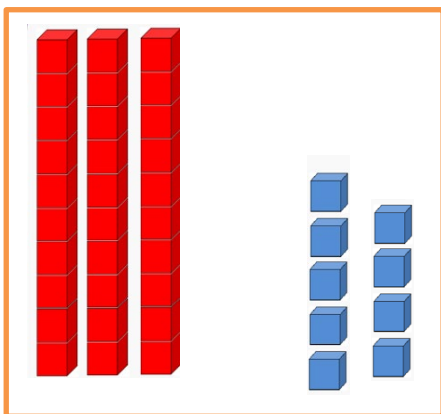
D	U



D	U



D	U



D	U