



RODEA EL NÚMERO MÁS PEQUEÑO.

41	42
----	----

47	43
----	----

43	45
----	----

46	48
----	----

44	50
----	----

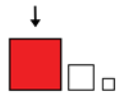
45	49
----	----

47	46
----	----

42	41
----	----

45	48
----	----

40	45
----	----



RODEA EL NÚMERO MÁS GRANDE.

50	45
----	----

41	42
----	----

45	49
----	----

47	46
----	----

46	48
----	----

43	45
----	----

44	40
----	----

47	43
----	----

49	47
----	----

46	40
----	----



ESCRIBE EL NÚMERO QUE VA ANTES.

	45
--	----

	41
--	----

	43
--	----

	42
--	----

	48
--	----

	44
--	----

	49
--	----

	46
--	----

	50
--	----

	40
--	----



ESCRIBE EL NÚMERO QUE VA DESPÚES.

41	
----	--

48	
----	--

43	
----	--

42	
----	--

45	
----	--

44	
----	--

47	
----	--

46	
----	--

49	
----	--

40	
----	--



ESCRIBE EL NÚMERO QUE FALTA.

41		43
----	--	----

44		46
----	--	----

40		42
----	--	----

48		50
----	--	----

43		45
----	--	----

42		44
----	--	----

46		48
----	--	----

47		49
----	--	----

45		47
----	--	----

49		41
----	--	----



43		43
----	--	----

41		42
----	--	----

50		46
----	--	----

45		44
----	--	----

49		48
----	--	----



40

41

42

43

44

45

46

47

48

49

50

CUARENTA Y OCHO

CUARENTA Y CINCO

CINCUENTA

CUARENTA Y NUEVE

CUARENTA Y UNO

CUARENTA Y SIETE

CUARENTA Y DOS

CUARENTA Y CUATRO

CUARENTA

CUARENTA Y TRES

CUARENTA Y SEIS



40
41
42
43
44
45
46
47
48
49
50

.....

.....

.....

.....

.....

.....

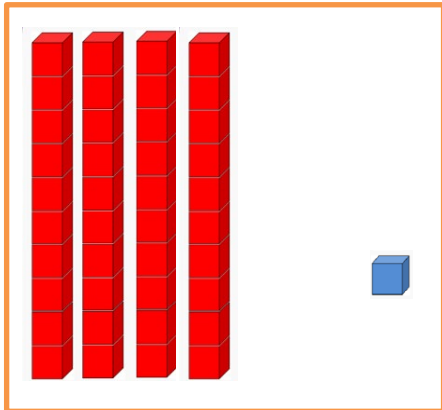
.....

.....

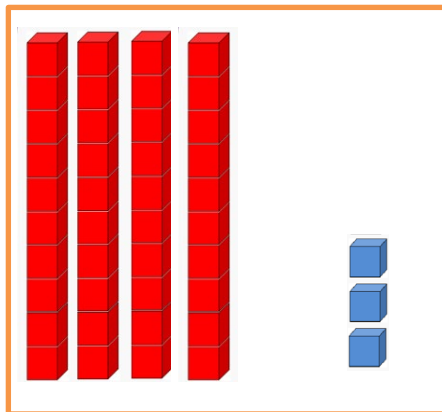
.....

.....

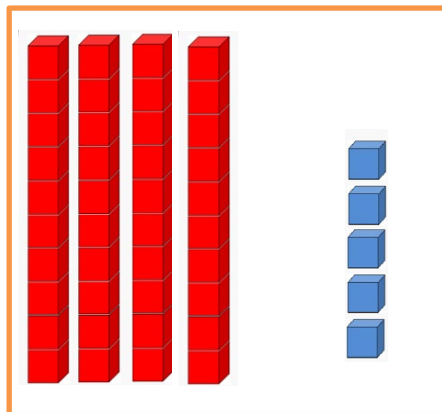
.....



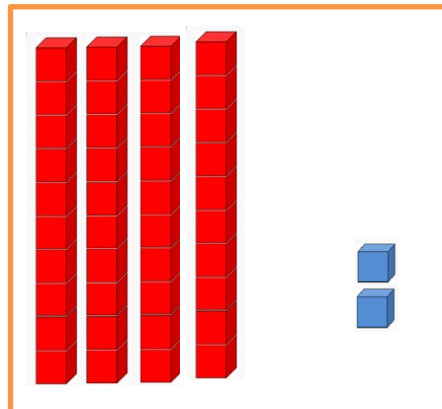
D	U




D	U



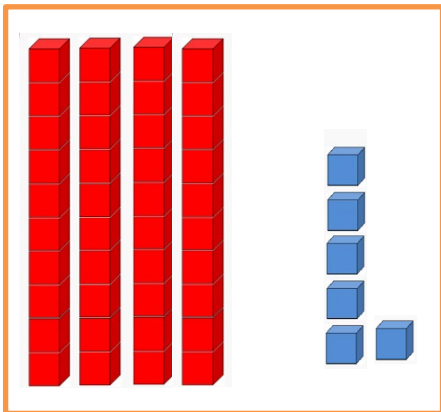
D	U



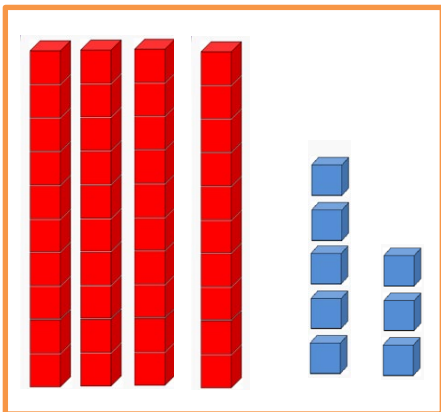
D	U



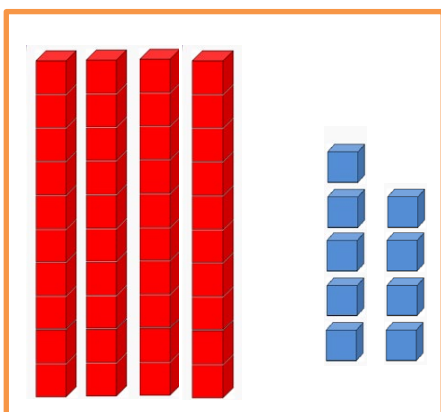
D	U



D	U



D	U



D	U