



RODEA EL NÚMERO MÁS PEQUEÑO.

51	52
----	----

50	55
----	----

55	54
----	----

53	58
----	----

60	50
----	----

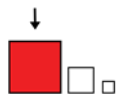
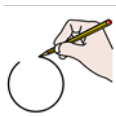
57	56
----	----

56	51
----	----

51	60
----	----

53	59
----	----

58	60
----	----



RODEA EL NÚMERO MÁS GRANDE.

56	57
----	----

59	60
----	----

55	50
----	----

52	55
----	----

52	60
----	----

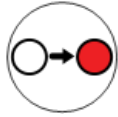
58	60
----	----

51	53
----	----

52	53
----	----

60	59
----	----

51	59
----	----



ESCRIBE EL NÚMERO QUE VA ANTES.

	60
--	----

	51
--	----

	52
--	----

	55
--	----

	54
--	----

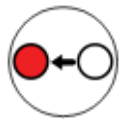
	59
--	----

	58
--	----

	57
--	----

	52
--	----

	56
--	----



ESCRIBE EL NÚMERO QUE VA DESPÚES.

59	
----	--

55	
----	--

51	
----	--

58	
----	--

53	
----	--

59	
----	--

57	
----	--

56	
----	--

52	
----	--

54	
----	--



ESCRIBE EL NÚMERO QUE FALTA.

51		53
----	--	----

56		58
----	--	----

55		57
----	--	----

52		54
----	--	----

58		60
----	--	----

57		59
----	--	----

50		52
----	--	----

53		55
----	--	----

54		56
----	--	----

49		51
----	--	----



53		52
----	--	----

60		50
----	--	----

56		54
----	--	----

51		55
----	--	----

59		60
----	--	----



50
51
52
53
54
55
56
57
58
59
60

CINCUENTA Y NUEVE
CINCUENTA Y SIETE
CINCUENTA
CINCUENTA Y OCHO
SETENTA
CINCUENTA Y UNO
CINCUENTA Y TRES
CINCUENTA Y DOS
CINCUENTA Y CUATROS
CINCUENTA Y SEIS
CINCUENTA Y CINCO



50
51
52
53
54
55
56
57
58
59
60

.....

.....

.....

.....

.....

.....

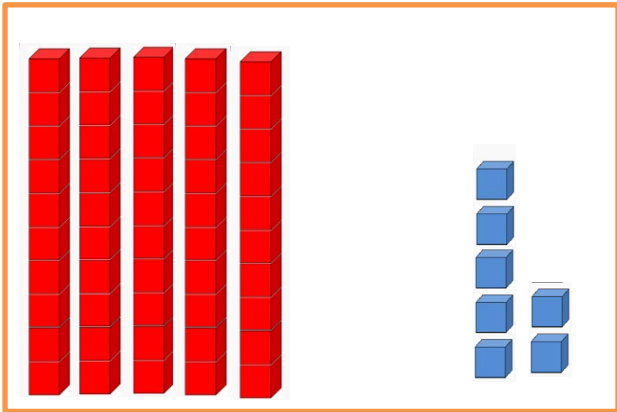
.....

.....

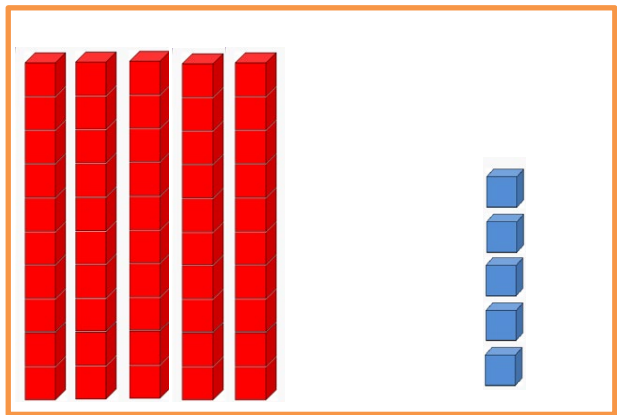
.....

.....

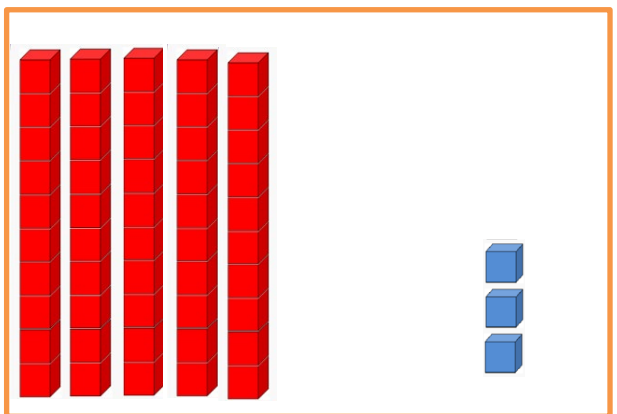
.....




D	U



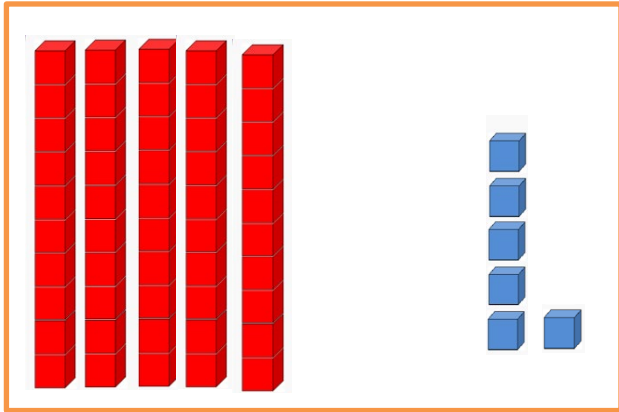
D	U




D	U




D	U




D	U



D	U



D	U



D	U