

En Joan té 4 caramels . Li dóna a la seva germana 2.

Resultat

Quants caramels li queden al Joan?



Operació

La María té 6 euros. La seva iaia li dóna 2 euros més.

Resultat

Quants euros té la Maria en total ?



Operació

En Pep té 8 cotxes . Li roben 2 cotxes

Resultat

Quants cotxes li queden a en Pep ?



Operació



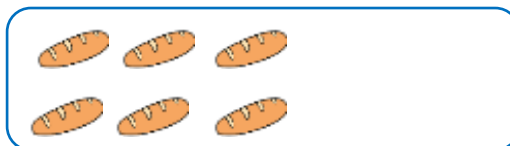
La María té 6 pans . La María agafa 2 pans mes.

Resultat

Quants pans té la Maria en total ?



Operació









En un arbre hi ha 5 coloms . Marxen 3 coloms




Resultat

Quants coloms queden a l'arbre ?  

Operació













En Pol tenia 9 llapis . Ha perdut 2 llapis.






Resultat


Quants llapis li queden al Pol ?  



Operació





La Carla té 7 pomes . Es menja 3 pomes.

Resultat

Quantes pomes li queden a Carla ?




Operació

La Laia té 7 tirites . Le retiren 3.

Resultat

Quants tirites li queden a la Laia ?



Operació


El Kevin té 5 galetes . Dóna al seu germà 2 galetes

Resultat

Quantes galetes li queden al Kevin ?



Operació



□	□
□	□


La María té 6 euros . Gasta 2 euros.

Resultat

Quants euros li queden a la Maria ?



Operació



□	□
□	□

En Miquel té 5 pilotes . Regala 1 a la seva amiga.

Resultat

Quantes pilotes té en Miquel en total ?



Operació

La Sandra té 6 nines . Compra 2 més.

Resultat

Quantes nines té la Sandra en total ?



Operació


La Silvia té 4 arbres en el seu jardí . Planta 3 més


Resultat


Quants arbres té Silvia en total ?



Operació








En Sergi té 5 llibres . Deixa 1 a un amic.


Resultat

Quants llibres li queden al Sergi ?



Operació





En Martí té 4 samarretes a l'armari . Afegeix 2 més .

Resultat

Quantes samarretes té Martí en total ?



Operació

La Maria té 5 quadres . Pinta 2 més

Resultat

Quants quadres té la Maria en total ?



Operació

En Pep té 3 pastissos . Fa 1 més

Resultat

Quants pastissos té en Pep en total ?



Operació



L' Alba té 4 bosses de patates . Posa 2 més al carro.

Resultat

Quantes bosses tindrà l'Alba en total ?



Operació



La Laura té 8 joguines . El seu iaio li treu 2 més.

Resultat

Quantes joguines té la Laura en total ?



Operació

La Sofia té 4 euros . Es troba 2 més al carrer.

Resultat

Quants euros té la Sofia en total ?



Operació

En Carles té 7 trofeus . Gauanya 2 més.

Resultat

Quants trofeus té en Carles en total ?



Operació

El Ferran té 4 xiclets . Treu 2 del paquet.

Resultat

Quants xiclets li queden al Ferran ?



Operació

Claudia té 12 cromos . La seva mare li dona 10 més.

Quants cromos té la Claudia en total ?



Resultat

--	--

Operació

	↓		

El Paco té 15 colors . Deixa 11 en la seva escola.

Quants colors té el Paco en total ?



Resultat

--	--

Operació

	↓		

La Maria té 15 anells . Compra 13 més.

Resultat

Quants anells té la Maria en total ?



--	--

Operació

		↓

El Quim té 24 euros . El seu avi li dona 18 euros més.

Resultat

Quants euros té el Quim en total ?



--	--

Operació

		↓

El José té 19 bombons . Es menja 17 .

Quants bombons li queden ara ?



Resultat

--	--

Operació

En Joan té 27 cotxes de joguines . Ha perdut 12 cotxes.

Quants cotxes li queden en total ?



Resultat

--	--

Operació

La Marta té 26 taronjes. Compra 23 més.

Quantes taronjes té ara ?



Resultat

--	--

Operació

	↓	

Al Marc li regalen 24 bales. Ha perdut 14.

Quantes bales li queden ara ?



Resultat

--	--

Operació

	↓	

En la escola hi ha 27 pissarres digitals . Es trenquen 5 .

Resultat

Quantes pissarres digitals queden a la escola ?



Operació

La Ahinoa compra 22 pastissos . Se l'han caigut 11 al carrer.

Resultat

Quants pastissos li queden en total ?



Operació

A casa meua hi ha 29 claus . Utilitzo 23 .

Resultat

Quants claus queden ara ?



Operació

En un teatre hi ha 32 bombetes . Es trenquen 25 .

Resultat

Quantes bombetes queden en total ?



Operació

La meva mare fa 35 magdalenes . Demà farà 22 més .

Resultat

Quantes magdalenes tindrà en total ?



Operació

Un forner té 37 barres de pa . Ha venut 26 barres.

Resultat

Quantes barres de pa li queden ?



Operació

En un Quiosc hi ha 39 diaris . Es venen 27 diaris .

Resultat

Quants diaris hi ha en total ?



Operació

↓

□	□	□
	□	□
	□	□

Un cuiner prepara 35 sopes . Demà ha de preparar 21 més.

Resultat

Quants sopes ha preparat en total ?



Operació

↓

□	□	□
	□	□
	□	□